
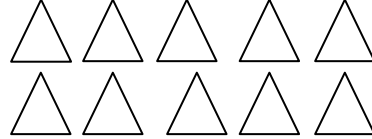




## سرگوشنو

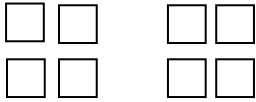


۱- مشخص کنید کدام شکل زوج و کدام فرد است . از کجا فهمیدید؟




.....

.....



۲- شکل و جای خالی را کامل کنید .

۵ دسته ی ..... می شود .....



۶ دسته ی ۲ تایی می شود .....

۳- سارا ۵۲ مداد رنگی داشت . او تعدادی از مدادهایش را به دوستش فاطمه داد و ۲۹ مداد رنگی برایش باقی ماند . سارا چند مداد به فاطمه داده است ؟ ( روش حدس و آزمایش )

۴- مسئله زیر را از روش حل مسئله ساده حل کنید .

سارا ۳۸۶ صفحه از کتاب داستانی را مطالعه کرده است دوست او حنا ۱۴۶ صفحه از سارا کم تر مطالعه کرده است حنا چند صفحه مطالعه کرده است ؟

۵- طول یک رو میزی ۲۷۸ سانتی متر و طول میز ۱۸۹ سانتی متر است . رو میزی چند سانتی متر بلندتر از میز است ؟

۶- مستطیلی به طول ۴ سانتی متر و عرض ۲ سانتی متر رسم کن و آن را به ۸ قسمت مساوی تقسیم کن . سپس ۳ قسمت از آن را رنگ بزن .

..... قسمت از ..... قسمت مساوی رنگ نشده است .